


EL PENTAGRAMA

Lección 2

Apellidos, Nombre _____, _____

- 1)
Hay siete nombres de notas. Estos nombres son: "do" "re" "mi" "fa" "sol" "la" "si".
Este es el orden si comenzamos en el "do" y llegamos hasta el "si".
Se puede hacer al revés: si la sol fa mi re do
Indica si este orden es correcto ascendiendo: do re mi sol fa la si. Si / No
Indica si este orden es correcto descendiendo: si la sol fa mi re do. Si / No
Escribe los nombres debajo de cada nota. Observa que hay otra nota más.




- 2)
Las notas en el orden ascendente mencionado se escriben así, afuera y adentro del pentagrama.
El nombre de la primera nota a la izquierda es ____ . El de la quinta es ____ . El de la última es ____ .




- 3)
¿Qué nombres han quedado afuera del pentagrama?
Han quedado _____
Numera de izquierda a derecha, debajo de cada nota yendo del 1 al 7.
¿Qué número tiene el "mi", el "sol" y el "si"? Mi = __ , sol = __ , si = __ .



- 4) Las notas de las líneas son "mi", "sol", "si", "re", "fa". Rodea las notas "mi", "sol" y "si" en el pentagrama.



- 5)
Las notas de los espacios son "fa", "la", "do", "mi". Rodea las notas "la", y "do".
¿Qué nombre se ha repetido en el ejercicio 4 y 5?. Se ha repetido el ____
El nombre de la nota repetida no está en la misma altura. ¿Por qué? Porque ____



- 6)
Autoevaluación:
Rodea con un círculo de 1 a 4, si has entendido: 1 = nada, 2 = poco, 3 = casi todo, 4 = todo.
En esta lección he entendido: 1, 2, 3, 4