

LECCIÓN 1


El pentagrama

Apellidos, Nombre _____, _____

1.

Las notas se representan en líneas que se cuentan de abajo arriba.

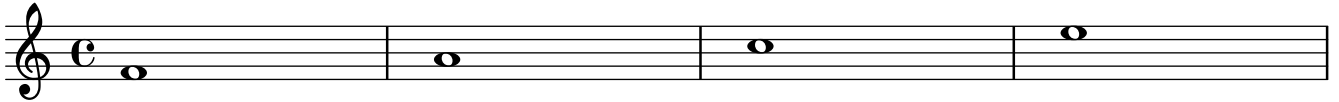
Numera las líneas de 1 a 5 en el ejemplo siguiente, a la derecha de cada nota:



2.

Entre las líneas hay espacios. Se numeran de abajo arriba.



Numera los espacios de 1 a 4 en el ejemplo siguiente, a la derecha de cada nota:



3.

Las notas se sitúan "EN" las líneas y "ENTRE" las líneas.

Encuadra las notas que están en líneas y rodea las notas entre líneas.



4.

Nombra las notas que aparecen de izquierda a derecha según este orden: mi sol si re fa fa la do mi.

Copia los nombres debajo de cada nota. Observa que hay dos "fa" y dos "mi", pero en alturas diferentes.



5.

Responder:

¿Cuántas líneas tiene un pentagrama?.....

¿Cuántos espacios tiene un pentagrama?.....

¿Cómo se numeran las líneas y los espacios de un pentagrama?.....

¿Cuáles son los nombres de notas que van en línea?.....

¿Cuáles son los nombres de notas que van en espacio?.....

¿Qué dos nombres tienen tanto línea como espacio?.....

¿En qué línea está la nota "sol"?.....

6.

Autoevaluación:

Rodea con un círculo de 1 a 4, si 1 = nada, 2 = poco, 3 = casi todo, 4 = todo.

En esta lección he entendido: 1, 2, 3, 4